

DİKKAT! SORU KİTAPÇIĞINIZIN TÜRÜNÜ "A" OLARAK CEVAP KÂĞIDINIZA İŞARETLEMİYİ UNUTMAYINIZ.

LYS-4 SINAVI COĞRAFYA-2 TESTİ

1. Bu testte 14 soru vardır.
2. Cevaplarınızı, cevap kâğıdının Coğrafya-2 Testi için ayrılan kısmına işaretleyiniz.
3. Bu testin cevaplanma süresi 20 dakikadır.



<http://goo.gl/XxhBWZ>

1. Türkiye'de nüfus artış hızı başta Avrupa ülkeleri olmak üzere birçok ülkeye kıyasla daha yüksektir.

Türkiye'de, nüfus artış hızının yüksek olmasında aşağıdakilerden hangisi etkili değildir?

- A) Doğum oranlarının yüksek olması
- B) Kırdan kente göçün artması
- C) Sağlık koşullarının gelişmesi
- D) Ölüm oranlarının azalması
- E) Ortalama insan ömrünün uzaması

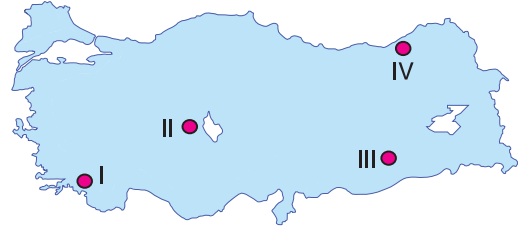
2. Gelecekte nüfus gücünü kaybedeceğini düşünen ülkelerde, nüfus artış hızını artırmaya yönelik nüfus politikaları uygulanır.

- I. Japonya
- II. Fransa
- III. Hindistan
- IV. Endonezya

Yukarıda verilen ülkelerden hangileri nüfus artış hızını artırmaya yönelik politika uygulamaz?

- A) I ve II
- B) I ve IV
- C) II ve III
- D) II ve IV
- E) III ve IV

- 3.



Yukarıdaki haritada verilen işaretli bölgelerle ilgili olarak aşağıdaki bilgilerden hangisi yanlıştır?

- A) II numaralı yerde, gerçek alan ile iz düşüm alan arasındaki fark, IV numaralı yerden azdır.
- B) IV numaralı yerde dağlar kıyıya paralel uzanır.
- C) II ve IV numaralı yerler karstik arazi üzerinde yer alır.
- D) III numaralı yer volkanik arazi üzerinde yer alır.
- E) I ve IV numaralı yerler dağlık ve engebelidir.

4. Türkiye'de bazı devlet kurumları temel gıda maddelerinde, ihracatı yapılan ürünlerde ve sanayide ham madde olarak kullanılan tarım ürünlerinde, kalitenin korunması ve çiftçinin olumsuz piyasa koşullarından zarar görmesini önlemek amacıyla, üreticiye önceden ilan ettiği taban fiyat üzerinden ürünü satın almasına destekleme alımı verir.

Buna göre, Türkiye'de aşağıdaki ürünlerden hangisi için destekleme alımı yapılmamaktadır?

- A) Fındık
- B) Buğday
- C) Çay
- D) Pamuk
- E) Muz

Diğer sayfaya geçiniz

A

5. Aşağıdakilerden hangisinde Dünya'nın günlük ve yıllık hareketinin sonuçları yanlış eşleştirilmiştir?

Dünya'nın günlük hareketlerinin sonuçları	Dünya'nın yıllık hareketlerinin sonuçları
A) Gece ve gündüz birbirini takip eder.	Gece ve gündüz süreleri değişir.
B) Gölge boyu gün içinde değişir.	Gölge boyu yıl içinde değişir.
C) Günlük rüzgârlar (meltemler) oluşur.	Mevsimlik rüzgârlar oluşur.
D) Aydınlanma çizgisinin sınırı değişir.	Yerel saat farkları oluşur.
E) Günlük sıcaklık farkı oluşur.	Gece ve gündüz süreleri değişir.

6. Deniz yolları, ülkeler arası ticarete en çok kullanılan ulaşım yoludur. Deniz yolları içinde en çok kullanılanı da Kuzey Atlantik deniz yoludur. Bu güzergâhı kullanan ülkeler arasındaki ticaret hacmi son derece yüksektir.

Buna göre, aşağıdaki ülkelerden hangileri arasındaki ticaret hacminin daha fazla olduğu söylenebilir?

- A) Yunanistan - Yeni Zelanda
- B) ABD - Almanya
- C) Brezilya - Japonya
- D) Hindistan - Norveç
- E) Kanada - Türkiye

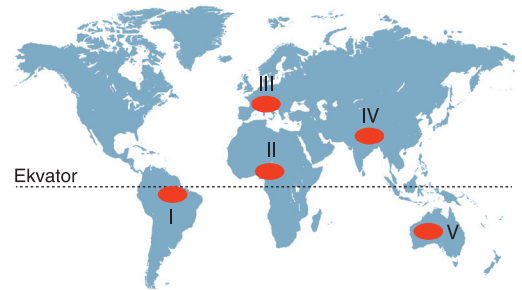
A

7. I. Verimsiz alanların sanayi bölgesi olarak değerlendirilmesi
II. Şehirlerin tarım alanına doğru büyümesinin önlenmesi
III. Orman alanlarının yerleşime açılması
IV. Mera alanlarının tarımsal faaliyetlere ayrılması

Yukarıda verilen faaliyetlerden hangileri, "arazinin yanlış kullanımına" örnek verilebilir?

- A) I ve II B) I ve III C) II ve III
D) II ve IV E) III ve IV

8. Cephesel yağışlar, sıcak kuşaktan gelen hava kütleleri ile soğuk kuşaktan gelen hava kütlelerinin karşılaşmasıyla oluşur.



Buna göre, yukardaki haritada gösterilen alanların hangisinde, yıl içinde cephesel yağışlar daha fazla görülür?

- A) I B) II C) III D) IV E) V

Diğer sayfaya geçiniz

A

9. I. Sarı Irmak ve Gök Irmak – Hint medeniyeti
 II. Nil Nehri – Mısır Medeniyeti
 III. Dicle ve Fırat nehirleri – Mezopotamya medeniyetleri
 IV. İndus ve Ganj nehirleri – Çin medeniyeti
- İlk medeniyetler genelde akarsu kenarlarında kurulmuştur.

Buna göre, yukarıda verilen akarsu ve kıyılarında gelişen medeniyet eşleştirmelerinden hangileri yanlıştır?

- A) I ve II B) I ve III C) I ve IV
 D) II ve III E) III ve IV

10. Yeryüzünde biyoçeşitlilik bakımından en zengin biyotop Ekvatorial bölgedeki ormanlık alanlardır.

Ekvatorial yağmur ormanları biyomunda, biyoçeşitliliğin fazla olmasında;

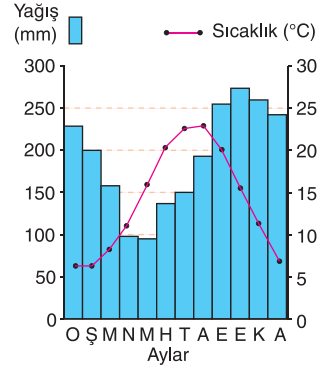
- I. sıcaklığın yüksek, sıcaklık farkının az olması,
 II. yer şekillerinin sade olması,
 III. yağışların konveksiyonel kökenli olması,
 IV. yağış miktarının fazla, yağış rejiminin düzenli olması

gibi özelliklerden hangileri etkili olmuştur?

- A) I ve II B) I ve III C) I ve IV
 D) II ve III E) III ve IV

A

11. Aşağıda Türkiye'deki bir merkezin aylık ortalama sıcaklık ve yağış grafiği verilmiştir.



Bu grafiğe sahip bir bölgede aşağıdaki bitkilerden hangilerinin daha yaygın olması beklenir?

- A) Zeytin, keçi boynuzu, mersin, zakkum
 B) İhlamur, kestane, göknar, ladin
 C) Geven, kekik, adaçayı, çoban yastığı
 D) Zeytin, sarıçam, adaçayı, çayır
 E) Kızılçam, sarıçam, karaçam, zeytin

12. I. Konya şeker fabrikası
 II. Aliağa (İzmir) petrol rafinerisi
 III. Karabük demir - çelik fabrikası

Yukarıda verilen sanayi tesislerinin kuruluş yerinin seçiminde etkili olan faktörler aşağıdakilerin hangisinde doğru verilmiştir?

- | | I | II | III |
|--------------|-----------|-----------|-----------|
| A) Ham madde | Ulaşım | Enerji | Enerji |
| B) Ulaşım | Enerji | Ham madde | Ham madde |
| C) Ham madde | Enerji | Ulaşım | Ulaşım |
| D) Enerji | Ham madde | Ulaşım | Ulaşım |
| E) Ulaşım | Ham madde | Enerji | Enerji |

Diğer sayfaya geçiniz

A

13. I. Ortalama yükseltisi az olup geniş düzlüklerden oluşur.
II. Yıllık yağış miktarının %85'i yazın düşer.
III. OPEC üyesidir. İhracatında ham petrol önemli bir yer tutar.

Yukarıda bazı özellikleri verilen ülkeler, aşağıdakilerden hangisinde doğru eşleştirilmiştir?

<u>I</u>	<u>II</u>	<u>III</u>
A) Nijerya	Hollanda	Hindistan
B) Hollanda	Hindistan	Nijerya
C) Hindistan	Nijerya	Hollanda
D) Hollanda	Nijerya	Hindistan
E) Nijerya	Hindistan	Hollanda

A

14. Geçmişte ticari faaliyetler genellikle birbirine yakın üretim ve pazar bölgeleri arasında yapılmaktaydı. Günümüzde ise ticari faaliyetler kıtalar arasında da yaygın olarak yapılmaktadır.

Bu durum, aşağıdakilerden hangisiyle daha çok ilişkilidir?

- A) Nüfusun artmasıyla
B) Ürün kalitesinin artmasıyla
C) Tarımsal üretimin artmasıyla
D) Yeni doğal kaynakların işlenmesiyle
E) Ulaşım ve teknolojik sistemlerin gelişmesiyle

A

SINAV BİTTİ, BAŞARILAR

LYS – Lisans Yerleştirme Deneme Dergisi

18.05.2016 Çarşamba

İmtiyaz Sahibi: Feza Gazetecilik A.Ş. Sorumlu Müdür ve Yayın Sahibinin Temsilcisi: Mehmet Özdemir Yayın Türü: Yerel Yayın

Adres: Fevzi Çakmak Mh. Ahmet Taner Kışlalı Cd. No:6 34194 Bahçelievler - İstanbul, 444 8 555 Baskı: Çağlayan Basım Yayın A.Ş.

Dağıtım: Yay-Sat, İssn No: 1305 - 5070 Her Hakkı Feza Gazetecilik A.Ş.'ye Aittir. Kaynak Gösterilse Dahı İzin Alınmadan Kullanılamaz.