

DİKKAT! SORU KİTAPÇIĞINIZIN TÜRÜNÜ "A" OLARAK CEVAP KÂĞIDINIZA İŞARETLEMİYİ UNUTMAYINIZ.

LYS-3 SINAVI COĞRAFYA-1 TESTİ

1. Bu testte 24 soru vardır.
2. Cevaplarınızı, cevap kâğıdının Coğrafya-1 Testi için ayrılan kısmına işaretleyiniz.
3. Bu testin cevaplanma süresi 35 dakikadır.



<http://goo.gl/LbTAIY>

1. "15-64" yaş grubundaki her 100 kişi için "65 ve daha yukarı" yaş grubundaki kişi sayısına yaşlı bağımlı nüfus oranı denir.

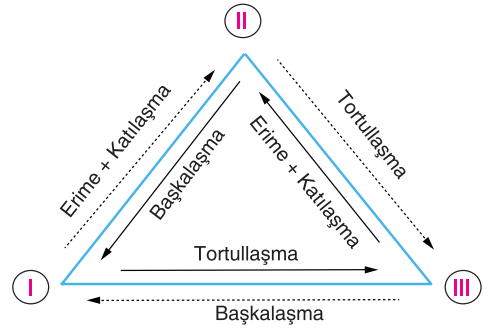
Buna göre, aşağıdaki ülkelerin hangisinde yaşlı bağımlı nüfus oranı **daha yüksektir**?

- A) Almanya B) Türkiye C) Brezilya
D) Çin E) Nijerya

2. Akdeniz'den yola çıkıp Süveyş Kanalı'nı geçen gemilerin, aşağıdaki ülkelerden hangisine gitmek için Malakka Boğazı'nı kullanmasına gerek **yoktur**?

- A) Çin
B) Japonya
C) Filipinler
D) Güney Kore
E) Güney Afrika Cumhuriyeti

3. Aşağıdaki şekilde kayaç döngüsü gösterilmiştir.



Kayaç döngüsünde I, II ve III ile gösterilen yerlere yazılabilecek kayaçlar, aşağıdakilerin hangisinde doğru verilmiştir?

- | I | II | III |
|------------|---------|---------|
| A) Andezit | Kalker | Gnays |
| B) Andezit | Gnays | Kalker |
| C) Kalker | Gnays | Andezit |
| D) Gnays | Andezit | Kalker |
| E) Kalker | Andezit | Gnays |

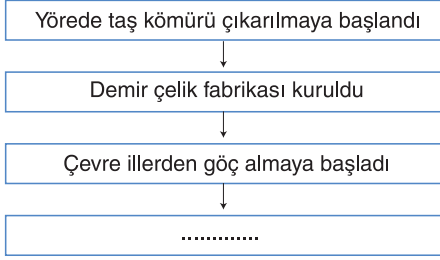
4. Aşağıda verilen ülkelerden hangisi nüfus artış hızını azaltmaya yönelik politikalar uygulamaktadır?

- A) Fransa B) Japonya C) Hindistan
D) Türkiye E) İsviçre

Diğer sayfaya geçiniz

A

5. Aşağıdaki tabloda bir yörede, beşerî faaliyetlere bağlı olarak gelişen olaylar zinciri gösterilmiştir.



Bu zincirdeki neden - sonuç ilişkisine göre, boş bırakılan yere aşağıdakilerden hangisi gelirse yanlış olur?

- A) Şehir gelişti ve genişledi.
B) Gecekondulaşma arttı.
C) Çevre sorunları arttı.
D) Sanayi tesisleri kent içinde kaldı.
E) İş gücü açığı ortaya çıktı.
6. **Biyosferde besin üretiminin en fazla ve en az yapıldığı karasal biyomlar, aşağıdakilerin hangisinde doğru verilmiştir?**

<u>En fazla üretim</u>	<u>En az üretim</u>
A) Tundra	Yağmur ormanları
B) Savan	Tundra
C) İğne yapraklı orman	Ilıman çayır
D) Yağmur ormanları	Çöl
E) Çalılık	Savan

A

7. Ülkenin batı ve kuzeybatısında yer yer küçük vadilerle yarılmış sıra dağlar uzanmaktadır. Bu dağlarda geçitler az olduğu için ulaşım güçtür. Sadece iki noktadan demir yolu geçer. Bu bölgede yaşayan insanlar uzun kış aylarında karın kapattığı yolların birbirinden ayrıldığı köylerde başka bir uğraş olmadığı için kendilerini saat yapımına vermişlerdir. Saatçilik sadece şehirlerde değil köylerde de yapılır. Burada köyler arası iş birliği kurulmuştur. Bazı köyler saatlerin belirli parçalarını yaparlar. Bu parçalar merkezlerde toplanır. Saatçilik sayesinde köyler, şehir görünümü almışlardır.

Yukarıdaki parçada sözü edilen ülke aşağıdakilerden hangisidir?

- A) Hollanda
B) Nijerya
C) Mısır
D) İsviçre
E) Fransa

8. Hazar Bölgesi, tarih boyunca hem ticarî açıdan hem de askerî açıdan ön plana çıkmıştır. Günümüzde ise bu bölge zengin enerji kaynakları nedeniyle dünya gündemindedir. Hazar Havzası'ndaki enerji kaynakları, Orta Doğu'nun zengin enerji yataklarına bir alternatif olarak görülmektedir. Önemi artan enerji kaynaklarının paylaşımı için ülkeler arasında sorunlar çıkmaktadır.

Hazar Havzası'nda çıkabilecek bir sorun aşağıdaki ülkelerden hangisini doğrudan etkilemez?

- A) Rusya
B) Kazakistan
C) Türkmenistan
D) Azerbaycan
E) Çin Halk Cumhuriyeti

Diğer sayfaya geçiniz

A

9. Doğu Karadeniz Projesi (DOKAP), sosyo-ekonomik açıdan az gelişmiş olan Doğu Karadeniz'i kapsamaktadır.

Aşağıdaki illerden hangisi Doğu Karadeniz Projesi'nde (DOKAP) yer almaz?

- A) Artvin B) Bayburt C) Bartın
D) Trabzon E) Rize

10. **Aşağıdakilerden hangisi Türkiye'nin jeopolitik önemini artıran bir özellik değildir?**

- A) Orta Doğu ve Kafkas ülkelerine yakın olması
B) İstanbul ve Çanakkale boğazlarına sahip olması
C) Farklı kültür bölgelerine yakın olması
D) Dağların doğu - batı yönünde uzanması
E) Güçlü bir orduya sahip olması

A

11. **Küresel ticaretin ortaya çıkmasında aşağıdakilerden hangisi etkili olmamıştır?**

- A) Ham madde, üretim ve pazar alanlarının farklılık göstermesi
B) Nüfusun artması
C) Nitelikli iş gücüne olan ihtiyacın artması
D) İnsan ihtiyaçlarının çeşitlenmesi
E) Tüketimin artması

12. Birleşmiş Milletler'e bağlı Eğitim, Bilim ve Kültür Örgütü (UNESCO) tarafından belirlenen ve dünya çapında koruma altına alınan doğal ve kültürel varlıklardan oluşan Dünya Mirası Listesi'nde 2015 yılı sonu itibarıyla Türkiye'den 15 yer bulunmaktadır. Aşağıda bu eserlerden iki tanesinin bazı özellikleri verilmiştir.

- I. Kommegene Kralı Antiokhos tarafından yaptırılan ve dağın yüksek kesimlerine konulan tanrı ve tanrıça heykelleri ile krala ait mezar tepesinin bulunduğu yerdir.
- II. 1300'lü yıllarda Uludağ'ın kuzey eteklerinde bir vakıf köyü olarak kurulan köyde, tarihi doku çok iyi korunmuştur ve Osmanlı erken döneminin kırsal kesim sivil mimari örnekleri günümüze ulaşmayı başarmıştır. Bu özelliği nedeniyle çok ilgi çeken ve ziyaret edilen bir yerleşim yeridir.

Buna göre, yukarıda özellikleri verilen eserler aşağıdakilerden hangisinde doğru olarak verilmiştir?

- | | |
|------------------------|----------------------------------|
| I | II |
| A) Safranbolu evleri | Hattuşuş Antik Kenti |
| B) Nemrut Dağı | Cumalıkızık |
| C) Bergama Antik Kenti | Safranbolu evleri |
| D) Truva Antik Kenti | Ksanthos - Letoon |
| E) Pamukkale | Divriği Ulu Camii ve Darüşşifası |

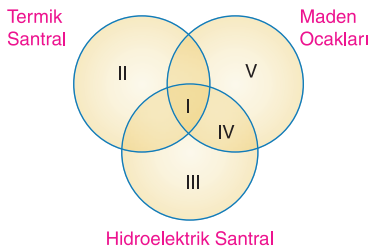
Diğer sayfaya geçiniz

A

13. Bir liman şehrinde kara ve demir yolu ağının gelişmiş olması, aşağıdakilerden hangisini en az etkiler?

- A) Turizm gelirlerini
- B) Ticaret hacmini
- C) Taşımacılık faaliyetlerini
- D) Endüstri faaliyetlerini
- E) Ard bölgesinin genişliğini

14. Aşağıda şemada termik santraller, maden ocakları ve hidroelektrik santrallerin çevre ve insan üzerindeki etkileri numaralarla gösterilmiştir.

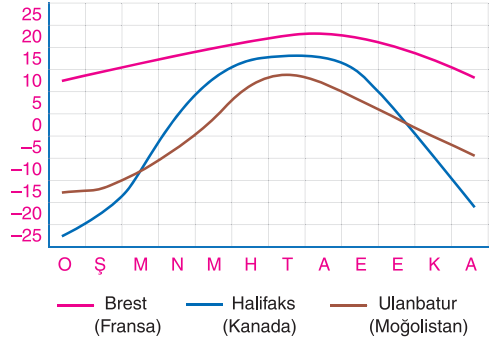


Yukarıdaki şemada numaralı yerlerde gösterilen sorunlar aşağıdakilerden hangisinde yanlış verilmiştir?

- A) I - Bitki ve hayvan türleri zarar görür.
- B) II - Hava kirliliği artar.
- C) III - Bölgenin iklimi değişir.
- D) IV - Yeryüzünün doğal yapısı değişir.
- E) V - Asit yağmurları meydana gelir.

A

15. Sıcaklık °C



Yukarıdaki grafikte farklı ülkelerde yer alan üç şehrin aylık sıcaklık grafiği verilmiştir.

Bu grafiğe bakarak aşağıdakilerden hangisi çıkarılamaz?

- A) Üç merkez de Kuzey Yarım Küre'dedir.
- B) Ulanbatur'un yıllık sıcaklık ortalaması Brest şehrinde daha düşüktür.
- C) Brest şehrinde kar yağışlı gün sayısı azdır.
- D) Brest şehrinin yağış rejimi düzenlidir.
- E) Sıcaklık farkının en fazla olduğu şehir Halifaks'tır.

16. Türkiye, aşağıdaki uluslararası örgütlerden hangisine üye değildir?

- A) Birleşmiş Milletler
- B) Kuzey Atlantik Savunma Teşkilatı
- C) Ekonomik Kalkınma ve İş Birliği Teşkilatı
- D) Karadeniz Ekonomik İş Birliği Teşkilatı
- E) Petrol İhracat Eden Ülkeler Birliği

Diğer sayfaya geçiniz

A

17. – BitkilerI.... yoluyla inorganik maddeleri organik maddelere dönüştürür.
-II.... ekosistemin tek enerji kaynağıdır.
- Belli bir bölgedeki canlı ve cansız varlıkların oluştuğu bütüneIII.... denir.

Yukarıdaki cümlelerde boş bırakılan yerlere yazılması gereken kavramlar aşağıdakilerden hangisinde doğru verilmiştir?

- | <u>I</u> | <u>II</u> | <u>III</u> |
|---------------|------------|---------------|
| A) Fotoliz | Güneş | Biyom |
| B) Fotosentez | Güneş | Ekosistem |
| C) Adaptasyon | Üreticiler | Ekoloji |
| D) Ekoton | Bitkiler | Ekosistem |
| E) Fotosentez | Güneş | Biyçeşitlilik |

18. **Aşağıda verilen şehirlerden hangisinin küresel etkisi daha azdır?**

- A) Paris
- B) Tokyo
- C) Hamburg
- D) Köstence
- E) New York

A

19.

Şehir	1996	2000	2010
İstanbul	10 843 359	13 595 698	53 037 233
Bursa	1 042 874	2 023 866	10 673 648
Kocaeli	1 160 864	1 013 596	9 527 573
İzmir	4 343 201	1 100 122	6 678 847
Türkiye	23 224 464	27 774 906	113 883 219

Yukarıdaki tabloda en fazla ihracat yapan dört ilin ve Türkiye'nin bazı yıllardaki ihracat (dış satım) rakamları (bin dolar olarak) gösterilmiştir.

Tabloya bakarak aşağıdaki yargılardan hangisi çıkarılamaz?

- A) Marmara Bölgesi Türkiye'nin ihracatında ilk sırada yer alır.
- B) 2000 ile 2010 yılları arasındaki artış oranının en fazla olduğu il İstanbul'dur.
- C) Verilen yıllarda dört il Türkiye'nin toplam ihracatının yarısından fazlasını gerçekleştirmiştir.
- D) Bazı yıllara Bursa'nın Türkiye ihracatındaki payı İzmir'den daha fazladır.
- E) Kocaeli ve İzmir'in ihracatında birbirine paralel bir değişim yaşanmıştır.

20. Ekvator'dan kutuplara sıcaklık ve sıcaklığa bağlı etmenler enleme bağlı olarak değişir. Buna enlem sıcaklık ilişkisi denir.

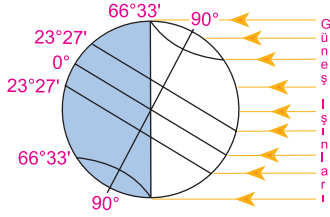
Buna göre, aşağıdakilerden hangisi enlem sıcaklık ilişkisiyle çelişir?

- A) Kızıldeniz'in Akdeniz'den tuzlu olması
- B) Kış mevsiminde Samsun'un Ankara'dan daha ılık olması
- C) Toros Dağları'nda kalıcı kar sınırının Kuzey Anadolu Dağları'ndan daha yüksek olması
- D) Buzulların kutuplarda deniz seviyesinden başlaması
- E) Orman üst sınırının Ekvator'da yüksek olması

Diğer sayfaya geçiniz

A

21. Aşağıdaki şekilde Dünya'nın Güneş'e göre belli bir tarihteki konumu gösterilmiştir.



Buna göre, Dünya yukarıdaki konumda iken aşağıdaki kentlerden hangisinde gündüz süresi daha uzun olur?

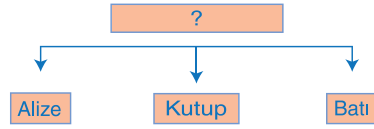
- A) Buenos Aires (Arjantin)
B) Tokyo (Japonya)
C) Kahire (Mısır)
D) Stockholm (İsveç)
E) Sidney (Avustralya)
22. Aşağıda dünyanın bazı önemli gölleri ve buldukları kıtalar eşleştirilmiştir.

Bu eşleştirmelerden hangisi yanlıştır?

Göl	Kıta
A) Hazar	Asya
B) Superior	Kuzey Amerika
C) Lut	Asya
D) Aral	Avrupa
E) Tanganika	Afrika

A

23. Aşağıdaki kavram haritasında rüzgâr çeşitleri gösterilmiştir.



Buna göre, kavram haritasında soru işareti ile gösterilen yere aşağıdakilerden hangisi getirilmiştir?

- A) Sürekli rüzgârlar
B) Mevsimlik rüzgârlar
C) Yerel rüzgârlar
D) Tropikal rüzgârlar
E) Soğuk yerel rüzgârlar
24. Magmadan yerkabuğu içine sokulmuş, fakat yeryüzüne çıkamamış, kökleri çok derinlerde bulunan büyük granit kütlelerine batolit adı verilir. Yerkabuğu içindeki bu gömülü kütleler sonraki dönemlerde aşınma ve yontulmalarla yüzeye çıkabilir.

Buna göre, aşağıdaki dağlardan hangisi batolite örnek verilebilir?

- A) Uludağ
B) Menteşe Dağları
C) Ilgaz Dağları
D) Kaz Dağları
E) Kaçkar Dağları

SINAV BİTTİ, BAŞARILAR