

DİKKAT! SORU KİTAPÇIĞINIZIN TÜRÜNÜ “A” OLARAK CEVAP KÂĞIDINIZA İŞARETLEMİYİ UNUTMAYINIZ.

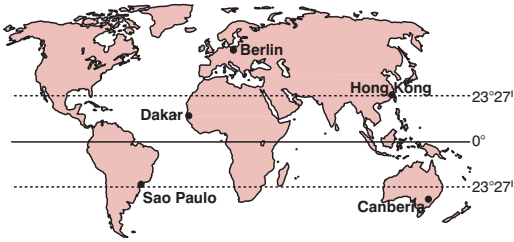
EDEBİYAT-COĞRAFYA SINAVI

COĞRAFYA-1 TESTİ

1. Bu testte 24 soru vardır.
2. Cevaplarınızı, cevap kâğıdının Coğrafya-1 Testi için ayrılan kısmına işaretleyiniz.
3. Bu testin cevaplama süresi 35 dakikadır.



1.



Güneş ışınları, tropikal kuşağın Kuzey Yarımküre’de kalan kısımlarına 21 Mart - 23 Eylül tarihleri arasında, Güney Yarımküre’de kalan kısımlarına ise 23 Eylül - 21 Mart tarihleri arasında dik açı ile düşmektedir.

Buna göre, nisan ayında haritada gösterilen merkezlerin hangisine güneş ışınları daha büyük açıyla düşer?

- A) Berlin B) Sao Paulo C) Hong Kong
D) Dakar E) Canberra

2. Aşağıdakilerden hangisi küresel ısınmaya bağlı olarak yaşanabilecek olaylar arasında gösterilemez?

- A) Donmuş haldeki turbalıkların erimesiyle atmosfere karışan metan gazının artması
B) Dağ eteklerindeki buzulların zirveye doğru çekilmesi
C) Deniz seviyesinin yükselmesi
D) Kuraklığa bağlı salgın hastalıkların yayılması
E) Gelgit genliğinin artması

3. Ülkemizin aşağıdaki coğrafi konum özelliklerinden hangisinin ekonomiye olan katkısı yanlış verilmiştir?

- A) Üç tarafının denizlerle çevrili olması ve boğazlara sahip olması, birçok ülke ile ticaretin deniz yoluyla yapılmasını sağlamıştır.
B) Farklı iklim özelliklerinin yaşanması, tarımsal ürünlerin ve hayvancılık faaliyetlerinin çeşitlenmesini sağlamıştır.
C) Asya, Avrupa ve Afrika kıtalarının birbirine en çok yaklaştığı yerde bulunması, bu kıtalar arasındaki transit ulaşımın ülkemiz üzerinden gerçekleşmesini sağlamıştır.
D) Doğu ve batı medeniyetlerinin buluşma noktasında yer alması, ülkemizde genç nüfusun ve zengin iş gücü potansiyelinin artmasını sağlamıştır.
E) Önemli stratejik enerji ve yeraltı kaynaklarına sahip olması, ülkemizin bu kaynaklardan gelir elde etmesini ve jeopolitik öneminin artmasını sağlamıştır.

4. İkinci Dünya Savaşı’ndan sonra Avrupa’nın güvenliğini sağlamak,
Üye ülkelerin toprak bütünlüğünü ve siyasi bağımsızlığını korumak,
Üye ülkelerden birine yapılan silahlı saldırıda tüm üye ülkelerin birlikte hareket etmesini kararlaştırmak

amacıyla kurulan ve Türkiye’nin 1952 yılında üye olduğu örgüt aşağıdakilerden hangisidir?

- A) BM B) NATO C) OPEC
D) OECD E) IMF

A

5. • Büyük endüstri ülkelerinin nüfusu, dünya nüfusunun %30'u kadar olduğu halde dünyada kullanılan enerjinin %84'ü bu ülkeler tarafından tüketilmektedir.
- Rusya'nın ve bütün Avrupa'nın nüfusu dünya nüfusunun %21'ini oluşturmaya karşılık enerji tüketimindeki payı %43'tür.
- ABD'nin nüfusu dünya nüfusunun ancak %6'sı kadar olduğu halde toplam enerjinin %32'sinden fazlası bu ülkede tüketilmektedir.
- Az gelişmiş ülkelerde yaşayanlar dünya nüfusunun %20'sini oluşturmakta fakat enerjinin ancak %1'ini kullanabilmektedir.

Yukarıda verilen bilgilere göre, aşağıdakilerden hangisine ulaşılabilir?

- A) Az gelişmiş ülkeler enerji üretiminde kullanılan doğal kaynaklar bakımından daha zengindir.
- B) Gayri safi milli hasıla (GSMH) yer altı kaynaklarının fazla olduğu ülkelerde yüksektir.
- C) ABD, dünyanın en büyük enerji üreticisidir.
- D) Enerji tüketiminin fazla olması endüstriyel gelişmişlikle yakından ilgilidir.
- E) Nüfus yoğunluğu fazla olan ülkelerde enerji tüketimi de fazladır.

6. • Okyanus kıyısında yer alır.
- Her mevsim bol yağışlıdır.
- Akarsuların rejimi düzenlidir.
- Ortalama yükselti azdır.

Yukarıda bazı özellikleri verilen Batı Avrupa kıyıları;

- I. gelgit,
II. güneş,
III. hidroelektrik

enerji kaynaklarından hangileri bakımından yüksek potansiyele sahiptir?

- A) Yalnız I B) Yalnız II C) Yalnız III
D) I ve II E) I ve III

A

7. Avrupa Birliği çevre politikası ile insan sağlığının korunması, çevrenin korunması ve kalitesinin yükseltilmesi, doğal kaynakların akılcı ve dikkatli kullanılması, küresel ve bölgesel çevre problemleri ile ilgili uluslararası düzeyde önlem alınması hedeflenmektedir.

Aşağıdakilerden hangisinin bu amaca yönelik uygulamalardan biri olduğu söylenemez?

- A) Endüstriyel atıkların azaltılması, atığın yeniden dönüşüme tabi tutulması ve atıkların yakılması sonucu oluşan kirliliğin azaltılması
- B) Endüstri kuruluşlarının kıyı bölgelerde yoğunlaştırılması ve su ihtiyaçlarının deniz sularından artırılarak karşılanması
- C) Eski taşıtların ve elektrikli aletlerin toplanması, kullanım süresi dolan petrol platformlarının sökülerek geri dönüşümle tekrar imalat sanayisine kazandırılması
- D) İklim değişikliğinin nedenleri ve ortaya çıkardığı sorunlarla mücadele edilmesi ve yenilenebilir enerji kaynaklarının kullanımının artırılması
- E) Yok olma tehlikesi ile karşı karşıya olan bitki ve hayvan türlerinin doğal ortamlarının korunması

8. • Kuzey sektörlü rüzgârların etkili olduğu Konya'da, endüstri kuruluşlarının şehrin kuzey kesiminde yoğunlaşması
- Antalya'nın Gazipaşa ilçesinde hava alanının Toroslar ile kıyı kesimi arasına yapılması
- Rize'de denizin doldurularak sahil yolu yapılması

Yukarıda verilenler Türkiye'de aşağıdakilerden hangisini örneklendirir?

- A) Arazinin yanlış kullanımı
- B) Ulaşımın geliştiğini
- C) Planlı kentleşmenin yaygınlaştığını
- D) Nüfusun hızla arttığını
- E) Gelişmişlik seviyesinin yükseldiğini

A

A

9. Uluslararası Çalışma Örgütü'nün verilerine göre, dünyada göçmen işçi ve aile sayısı 120 milyona ulaşırken Türkiye'ye her yıl 300 bin kaçak göçmen giriyor ve bunların yarısı diğer bir ülkeye geçmeden Türkiye'de yasa dışı çalışıyor. Göç akımlarının büyük bir kısmı Irak, Afganistan, Pakistan ve İran'dan gelirken son 15 yılda Romanya, Ukrayna, Rusya Federasyonu, Bangladeş ve Gürcistan'dan önemli ölçüde göçmen geldiği belirtiliyor. Kaçak işçiler, ev işleri ve bakıcılığın yanı sıra inşaat, tekstil ve gıda sektörlerinde daha düşük ücretle çalıştırılıyor.

Parçaya göre, aşağıdakilerden hangisine ulaşamaz?

- A) Göçmenlerin büyük bölümü yaşam standartları düşük ülkelerden göç etmiştir.
B) Türkiye'deki vasıfsız işçilerin bir bölümünü kaçak göçmen işçiler oluşturmaktadır.
C) Kaçak göçler Türkiye'deki işsizlerin iş bulma olanaklarının azalmasında etkilidir.
D) Türkiye'de kayıt dışı (sigortasız) çalışanların sayısının artmasında kaçak göçmenlerin etkisi olmuştur.
E) Kaçak göçmenler genç nüfus oranını artırmaktadır.

10. Enerji kaynaklarından bazılarının uzak yerlere taşınması maliyeti yükselttiğinden, sanayi işletmeleri genellikle enerji kaynağına yakın yerlere kurulmaktadır.

Buna göre, aşağıdaki sanayi tesislerinden hangisinin kurulmasında enerji kaynağına yakınlık etkili olmamıştır?

- A) Karabük Demir-Çelik Tesisleri
B) Bandırma Doğal Gaz Çevrim Santrali
C) Yatağan Termik Santrali
D) Çatalağzı Termik Santrali
E) Hamitabat Doğal Gaz Çevrim Santrali

A

11. Aşağıdaki tabloda, Türkiye'nin 2013 yılında dış ticaretinde önde gelen ülkeler verilmiştir.

Ülke	Dış satım (milyon dolar)	Dış alım (milyon dolar)
Almanya	13 702	24 182
ABD	5 640	12 596
İtalya	6 718	12 884
Fransa	6 376	8 079
Rusya	6 964	25 064

Tablodaki bilgilere göre, aşağıdakilerden hangisine ulaşılabilir?

- A) Almanya'ya yapılan dış satım diğer ülkelere yapılan dış satımın toplamından daha fazladır.
B) Tarım ürünlerinin dış satımının en az yapıldığı ülke Rusya'dır.
C) Avrupa ülkeleriyle yapılan ticaret hacmi Rusya ve ABD ile olan ticaretten daha azdır.
D) Dış ticaret açığının en az olduğu ülke Fransa'dır.
E) Dış ticaret hacminin en fazla olduğu ülke Rusya'dır.

12. Anadolu Yarımadası, tarihin hemen her döneminde birçok medeniyete ev sahipliği yapmıştır.

Anadolu'da ilk çağlardan beri farklı özelliklere sahip çok sayıda medeniyetin kurulup gelişmesinde, Anadolu'nun aşağıdaki özelliklerinden hangisinin etkisi daha fazladır?

- A) Coğrafi konumunun
B) İklim koşullarının
C) Doğal güzelliklerinin
D) Yüzey şekillerinin
E) Su kaynaklarının

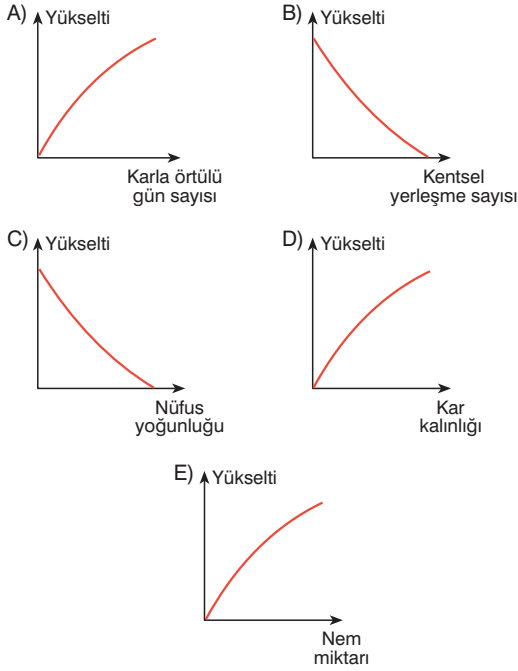
A

A

13. Türkiye’de yükselti ile,

- karla örtülü gün sayısı
- kentsel yerleşme sayısı
- nüfus yoğunluğu
- kar kalınlığı
- nem miktarı

arasındaki ilişkilerin gösterildiği aşağıdaki grafiklerden hangisi yanlıştır?



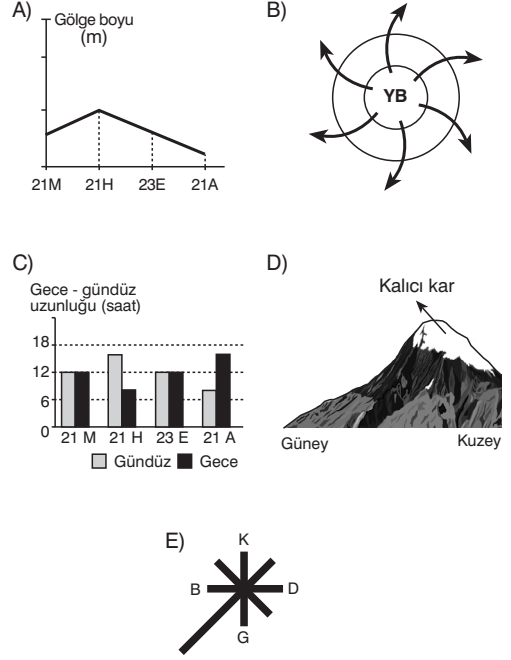
14. Yeryüzünde ilk medeniyetler genellikle yer şekillerinin sade olduğu ve verimli tarım alanlarının bulunduğu akarsu çevrelerinde ortaya çıkmıştır.

Buna göre, aşağıdaki medeniyetlerin hangisinin kuruluş yeri üzerinde bu faktörler etkili olmamıştır?

- A) Mezopotamya B) Mısır C) İnka
D) Hint E) Çin

A

15. Aşağıda verilenlerden hangisine bakılarak bir yerin bulunduğu yarım küre belirlenemez?

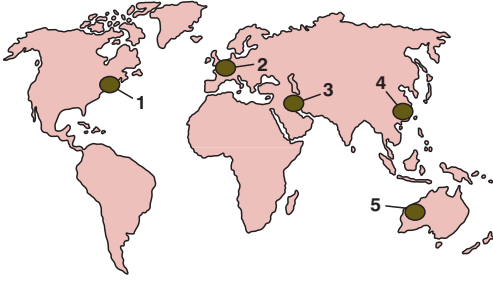


16. Aşağıdakilerden hangisi çevresel örgütlerin, çevre bilinci oluşturmak amacıyla eylem yapmasına neden olan durumlarda biri değildir?

- A) Zehirli kimyasalların kullanımı
B) Nükleer silahlanma
C) Balina avı
D) Orman tahribi
E) Tütün ve piring tarımı

A

17.



Yukarıdaki haritada beş yer numaralandırılarak gösterilmiştir.

Bu yerlerin üretim özelliği aşağıdakilerden hangisinde yanlış verilmiştir?

- A) 1 – Sanayi üretim alanı
- B) 2 – Hizmet üretim alanı
- C) 3 – Enerji kaynakları üretim alanı
- D) 4 – Tarımsal ham madde alanı
- E) 5 – Pazar alanı

18. Doğal bitki örtüsünün sınırları zamanla değişebilir. Çeşitli nedenlerle tahrip edilen bitki örtüleri zamanla ortadan kalkarak yerini başka bitki örtüsü bölgelerine bırakabilir.

Buna göre,

- I. antropojen step
- II. tundra
- III. garig
- IV. savan

bitki topluluklarından hangileri bu tür bölgelere örnek gösterilebilir?

- A) I ve II
- B) I ve III
- C) II ve III
- D) II ve IV
- E) III ve IV

A

19. Türkiye’de etkili olan rüzgârlarla ilgili aşağıdakilerden hangisi yanlıştır?

- A) Lodos, kış mevsiminde etkili olduğunda kar erimelerine neden olur.
- B) Yıldız, Kuzey Anadolu dağlarının yüksek kesimlerine yağış getirir.
- C) Samyeli, yaz mevsiminde Güneydoğu Anadolu’da sıcaklıkların yükselmesine neden olur.
- D) Karayel, etkili olduğu dönemlerde sıcaklık değerlerinin düşmesine neden olur.
- E) İmbat, Ege kıyılarında zaman zaman şiddetli yağışlara neden olur.

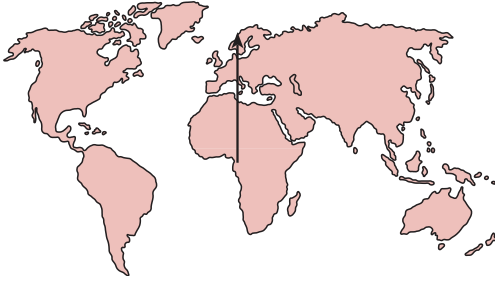
20. Dünya Araştırmaları Enstitüsü’nün yayımladığı bin yılın ekosistem değerlendirmesinde; dünyanın karasal alanının % 24’ünün ekili halde bulunduğu, ayrıca 1950’den sonraki 30 yılda birçok alanın tarlaya dönüştürüldüğüne dikkat çekiliyor.

Aşağıdakilerden hangisi, bu duruma neden olan gelişmelerden biri değildir?

- A) Hızlı nüfus artışı
- B) Teknolojinin gelişmesi
- C) Tarımda makineleşme
- D) Köyden kente göçlerin olması
- E) Tarıma dayalı sanayi tesislerinin artması

A

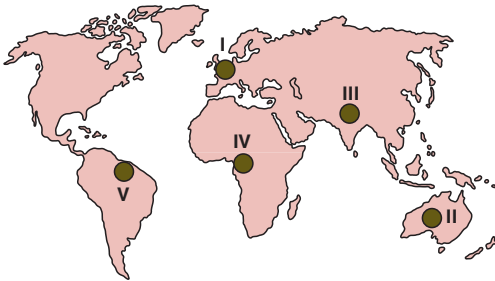
21.



Yukarıdaki haritada Ekvator'dan ok yönünde hareket eden bir kişi aşağıdakilerden hangisine rastlamaz?

- A) İtalya kıyılarındaki kumsallara
- B) Büyük Sahra'daki kumullara
- C) Norveç kıyılarındaki fiyortlara
- D) İsviçre dağlarındaki kayak merkezlerine
- E) Fransa kıyılarındaki haliçlere

22.



Yukarıdaki haritada taralı bölgelerin hangisinde geniş yapraklı ağaçlara rastlanmaz?

- A) I
- B) II
- C) III
- D) IV
- E) V

A

23. Günümüzde artan nüfusa bağlı olarak su kullanımının artması ve iklim değişiklikleri sonucu su havzalarının daralmasıyla su kaynaklarının kullanımı ve paylaşımı önem kazanmıştır. Dünya genelinde su sıkıntısı yaşayan 26 ülkeden 14'ü Orta Doğu'da yer almaktadır.

Orta Doğu'da su sıkıntısının yaşanmasında,

- I. aşırı buharlaşmaya bağlı su kaybının fazla olması
- II. akarsu havzalarının genellikle açık olması
- III. akarsuların birden fazla ülkeden geçmesi
- IV. kişi başına düşen yıllık su tüketiminin fazla olması

durumlarından hangilerinin etkisi daha fazladır?

- A) I ve II
- B) I ve III
- C) I ve IV
- D) II ve IV
- E) III ve IV

24. Endüstri ve hizmet sektörünün gelişmiş olduğu ülkelerde doğum oranının düşük olması, nüfusun yaşlanması gibi nedenlerle nüfus artış hızını artırmaya yönelik politikalar uygulanmaktadır.

Nüfusun yoğun olduğu,

- I. Endonezya
- II. Fransa
- III. Çin
- IV. Japonya

ülkelerinden hangilerinde bu tür uygulamalar yapılmaktadır?

- A) I ve II
- B) I ve III
- C) I ve IV
- D) II ve IV
- E) III ve IV