

LYS - 3 COĞRAFYA - 1 TESTİ

- DİKKAT :**
1. Bu testte toplam 24 soru vardır.
 2. Cevaplamaya istediğiniz sorudan başlayabilirsiniz.
 3. Cevaplarınızı, cevap kağıdının Coğrafya - 1 Testi için ayrılan kısmına işaretleyiniz.
 4. Sayfalar üzerindeki boş yerleri müsvedde olarak kullanabilirsiniz.
 5. Sınav süresi 35 dakikadır.

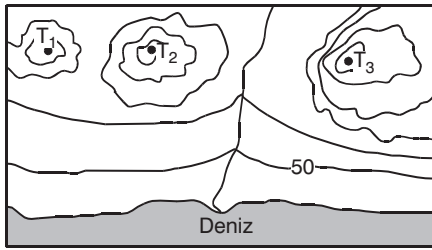
1. Aşağıdaki tabloda, beş farklı bölgenin coğrafi konumu verilmiştir.

Bölgeler	Enlem Dereceleri	Boylam Dereceleri
I	22°- 32°K	25°- 37°D
II	48°- 75° K	35°- 140° B
III	42°- 46° K	4° B - 8° D
IV	17°- 32° K	85°- 115° B
V	2° K- 32°G	72°- 43° B

Buna göre, verilen bölgelerden hangisinin Türkiye'ye diğerlerine göre daha yakın olduğunu söyleyebilir?

- A) I B) II C) III D) IV E) V

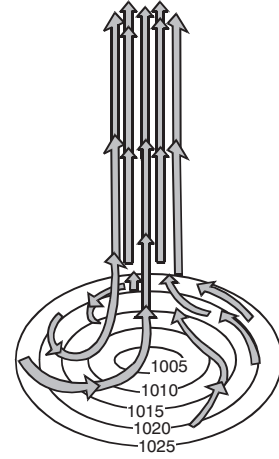
2. Aşağıda bir yöreye ait izohips haritası verilmiştir.



Buna göre, yöre ile ilgili aşağıdaki bilgilerden hangisi doğrudur?

- A) Akarsu yatağında yükselti kuzeye doğru azalır.
B) Boyun bölgelerinin bulunduğu yükselti aralığı birbirinden farklıdır.
C) Yamaçlardaki eğim değerleri birbirinin aynıdır.
D) Yörenin en yüksek yeri deniz seviyesine göre 300 metrenin altındadır.
E) Doğudaki tepenin yükseltisi diğer tepelere göre fazladır.

3. Aşağıdaki şekil, bir yörede herhangi bir günde etkili olan basınç merkezini ve bu basınç merkezindeki hava hareketlerini göstermektedir.



Buna göre, bu yöre ile ilgili,

- I. Kuzey Yarımküre'de bulunur.
II. Sıcaklık ortalamaları yıl boyunca düşüktür.
III. Geniş bir iç denizin yüzeyinde yer alır.
IV. Alçak basınç alanıdır.

yargılarından hangileri kesindir?

- A) I ve II B) I ve III C) I ve IV
D) II ve III E) III ve IV

4. Ekvatorial bölgelerin aşağıdaki özelliklerinden hangisi Yer'in şekli ile açıklanamaz?

- A) Çizgisel hızın en fazla olması
B) Sürekli termik alçak basınç alanı olması
C) Güneş ışınlarını yıl boyunca büyük açılarla alması
D) Yağış miktarının mart ve eylül dönemlerinde artması
E) Kalıcı kar sınırının yüksek olması

5. Aşağıdaki doğal afetlerden hangisi, bu doğal afetin etkili olduğu bir ülkeyle birlikte verilmemiştir?

- A) Kasırga → ABD
- B) Tsunami → Endonezya
- C) Çığ olayları → İsviçre
- D) Kuraklık → Afganistan
- E) Sel ve taşkın → Libya

6. Oba, göçebe aileler tarafından kullanılan kırsal yerleşme türüdür. Oba yerleşmeleri, Orta Karadeniz ve Adana bölümlerinde yaygındır.

Buna göre, obalardaki temel ekonomik fonksiyon aşağıdakilerden hangisidir?

- A) Hayvancılık
- B) Tarım
- C) Turizm
- D) Ormancılık
- E) Balıkçılık

7. Bir kırsal bölgede, tarımda makine kullanımının yaygınlaşmasına bağlı olarak aşağıdakilerden hangisinin gözlenmesi beklenmez?

- A) Tarımsal üretimde verimin artmasının
- B) Ekim alanlarının genişlemesinin
- C) Ürün toplama süresinin kısalmasının
- D) Çevreye olan göçlerin artmasının
- E) Mera alanlarının ıslah edilmesinin

8. Doğu Anadolu Bölgesi'nde aşağıdaki sektörlerden hangisinin ham madde üretimi daha fazladır?

- A) Deri işlemeciliği
- B) İpekli dokuma
- C) Pamuklu dokuma
- D) Tütün işleme
- E) Bitkisel yağ

9. Aşağıdaki elektrik santrallerinden hangisi kullandığı enerji kaynağına yakın yere kurulmamıştır?

- A) Keban
- B) Ovaakça
- C) Çatalağzı
- D) Sarayköy
- E) Yatağan

10. I. İstanbul ve Çanakkale boğazları
II. Doğu Karadeniz kıyıları
III. Antalya Körfezi kıyıları
IV. Doğu Akdeniz kıyılarındaki akarsu ağzları

Yukarıdakilerden hangilerinde deniz ürünleri üretimi daha fazladır?

- A) I ve II
- B) I ve III
- C) II ve III
- D) II ve IV
- E) III ve IV

11.



Yukarıdaki haritada numaralanmış yörelerin hangisinde gerçek alan ile izdüşümsel alan arasındaki fark diğerlerinden daha azdır?

- A) I
- B) II
- C) III
- D) IV
- E) V

12. Karadeniz Bölgesi'nin aşağıdaki özelliklerinden hangisi yükselti ve eğimin fazla olmasının bir sonucu değildir?

- A) Ekilebilen alanlar oranının bölge yüzölçümü içindeki payının düşük olması
- B) Akarsu enerji potansiyellerinin fazla olması
- C) Termik elektrik santrallerinin bulunması
- D) Dağcılık ve kış turizmi gibi etkinliklere elverişli olması
- E) Yol yapım giderlerinin yüksek olması

13. I. Kış aylarında sıcaklık ortalamasının 0 C°'nin altında düşmemesi
II. Yağış rejiminin düzenli olması
III. Yaz kuraklığının etkili olması
IV. Yıllık toplam yağış miktarının 200 mm'nin altında olması

Yukarıdakilerden hangileri Türkiye'de narenciye tarımının yoğun olarak yapıldığı alanların özelliklerinden değildir?

- A) I ve II B) I ve III C) II ve III
D) II ve IV E) III ve IV

14. **Aşağıdaki coğrafi bölümlerin hangisinde yer şekillerine bağlı ulaşım güçlüğü diğerlerine göre daha azdır?**

- A) Kıyı Ege Bölümü
B) Doğu Karadeniz Bölümü
C) Hakkari Bölümü
D) Erzurum-Kars Bölümü
E) Yukarı Kızılırmak Bölümü

15.



Yukarıdaki haritada numaralanmış yörelerin hangisinde tarımın yöre ekonomisindeki önemi diğerlerine göre daha azdır?

- A) I B) II C) III D) IV E) V

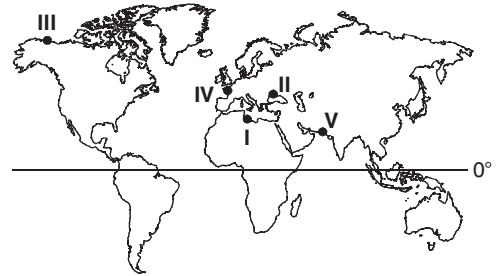
16. **Bir yörenin ortalama atmosfer koşulları, yörenin aşağıdaki özelliklerinden hangisi üzerinde etkili değildir?**

- A) Taban suyu seviyesi
B) Akarsu rejimi
C) Konut tipi
D) Kayaçların çözülme türü
E) Yer yapısı

17. **Türkiye ile ilgili aşağıdaki gözlemlerden hangisi iklim koşullarıyla açıklanamaz?**

- A) Tuz Gölü çevresinde erozyon şiddetinin fazla olması
B) Torosların güney ve kuzey yamaçlarında tarım ürünlerinin birbirinden farklı olması
C) Çukurova Yöresi'nde tarım alanlarından aynı yıl içinde birden çok ürün alınabilmesi
D) Gediz Havzası'nda akarsu debilerinin kış mevsiminde artması
E) Taşeli Platosu'nda ekili-dikili alanlar oranının az olması

18. **Gelgit genliği arttıkça, bu enerjiden elde edilebilecek elektrik enerjisi miktarı da artmaktadır.**



Buna göre, yukarıdaki haritada numaralanmış yerlerin hangisinde kurulacak gelgit enerjisi santrallerinden daha fazla elektrik üretilmesi beklenir?

- A) I B) II C) III D) IV E) V

A

A

A

LYS - 3 COĞRAFYA - 1 TESTİ

19. Aşağıdaki bölgelerden hangisinin sınırlarında zaman içinde değişme olması beklenir?

- A) İklim bölgeleri
B) Dağlık bölgeler
C) Maden bölgeleri
D) Deprem bölgeleri
E) Karstik bölgeler

20. Bir doğa olayı, kısa sürede yol açtığı can ve mal kaybı sonucunda afete dönüşür.

Aşağıdakilerden hangisi bu doğal afetlerden biri değildir?

- A) Tsunami
B) Kasırga
C) Su taşkınları
D) Erozyon
E) Heyelan

21. Gün boyunca bağıl nemin düşük olduğu bir yöre ile ilgili olarak,

- I. Yüksek basınç etkilidir.
II. Konveksiyonel yağışlar etkilidir.
III. Bulutluluk oranı fazladır.
IV. Nem açığı fazladır.

Yargılarından hangileri söylenebilir?

- A) I ve II
B) I ve III
C) I ve IV
D) II ve III
E) III ve IV

22. Aşağıdaki ülkelerin hangisinde yerleşme üst sınırının diğerlerine göre **daha yüksek** olması beklenir?

- A) Kanada
B) İtalya
C) Bolivya
D) Afganistan
E) Norveç

23. Türkiye tarımı ile ilgili,

- I. ekim yapılan toprakların bir kısmının bir veya birkaç yıl boş bırakılması,
II. tarımsal nüfus yoğunluğunun yıllar içinde azalması,
III. tahıl üretiminin yıllar arasında dalgalanmalar göstermesi
IV. seracılığın yaygınlaşması

durumlarından hangileri doğa koşullarına bağımlılığın devam ettiğine kanıt olabilir?

- A) I ve II
B) I ve III
C) II ve III
D) II ve IV
E) III ve IV

24.



Yukarıdaki haritada numaralanmış yörelerin hangisinde küçükbaş hayvancılık ve tahıl tarımının kırsal yörelerin ekonomik etkinliklerinde diğerlerine göre **daha önemli olduğu söylenebilir?**

- A) I
B) II
C) III
D) IV
E) V