

DİKKAT! SORU KİTAPÇIĞINIZIN TÜRÜNÜ "A" OLARAK CEVAP KÂĞIDINIZA İŞARETLEMİYİ UNUTMAYINIZ.

## EDEBİYAT-COĞRAFYA SINAVI COĞRAFYA-1 TESTİ

1. Bu testte 24 soru vardır.
2. Cevaplarınızı, cevap kâğıdının Coğrafya-1 Testi için ayrılan kısmına işaretleyiniz.
3. Bu testin cevaplama süresi 35 dakikadır.



1. Geri dönüşüm sistemlerinin bir ülkede yaygın ve etkin bir şekilde uygulanmasında,

- I. geri dönüşüm sisteminin yasalarla desteklenmesi
- II. atıkların sınıflandırılarak ayrı kutularda toplanması
- III. tek kullanımlık ambalaj üretiminin teşvik edilmesi

faktörlerinden hangilerinin etkisinden söz edilemez?

- A) Yalnız II                      B) Yalnız III                      C) I ve II  
D) I ve III                      E) II ve III

2. • Magmanın yüzeye çıkarak soğumasıyla oluşan bazalt kayaçlar  
• Günlük sıcaklık farkları sonucu bazaltların çatlayarak parçalanması  
• Parçalanmış bazaltların Kızılırmak'ın yatağına taşınması  
• Kum boyutuna gelen bazaltların Kızılırmak'ın denize döküldüğü yerde birikmesi

Yukarıda verilen süreçle, aşağıdaki kavramlardan hangisi arasında bir ilişki kurulamaz?

- A) Delta  
B) Mekanik çözülme  
C) Yüzeysel volkanizması  
D) Erozyon  
E) Penneplen

3. Türkiye'de arazi kullanımıyla ilgili verilen aşağıdaki bilgilerden hangisi yanlıştır?

- A) İç kesimlerdeki platolarda tahıl üretimi ve küçükbaş hayvancılık yapılır.  
B) Delta ovaları ormancılık ve madencilik geliştiği yerlerdir.  
C) Güney ve batı kıyılarındaki bazı koy ve körfezler ulaşımın gelişmesiyle turizme açılmıştır.  
D) Geniş vadi tabanları tarımsal faaliyetlerin yoğunlaştığı yerlerdir.  
E) Bazı kentler sanayileşmeye bağlı olarak verimli tarım alanlarına doğru genişlemiştir.

4. İnsanlar ilk dönemlerden itibaren uzun bir süre doğal sistemin işleyişi içerisinde kalarak yaşamlarını sürdürmüşler; ancak yeryüzü hakkındaki bilgileri arttıkça doğal sistemlere daha çok müdahale etmeye başlamışlardır.

Aşağıdakilerden hangisinin etkisiyle insanların doğal çevreye müdahalesi en üst düzeye ulaşmıştır?

- A) Yerleşik hayata geçilmesinin  
B) Sanayi Devrimi'nin  
C) Coğrafi Keşifler'in  
D) Bitkilerin kültür altına alınmasının  
E) Matbaanın bulunmasının

A

5. Batı Avrupa, Güneydoğu Asya ve Kuzey Amerika'da nüfusun daha çok kıyı kesimlerde toplanmasında,

- I. iklim koşullarının elverişli olması
- II. iç kesimlerde yer şekillerinin dağlık ve engebeli olması
- III. sanayi ve ticaretin yoğun olması
- IV. doğal kaynakların fazla olması

durumlarından hangileri daha etkili olmuştur?

- A) I ve II                      B) I ve III                      C) II ve III  
D) II ve IV                      E) III ve IV

6. Aşağıdakilerden hangisi uluslararası sıcak çatışmalara neden olan doğal unsurlardan değildir?

- A) Su kaynakları
- B) Toprak paylaşımı
- C) Yer altı zenginlikleri
- D) Bağımsızlık istekleri
- E) Enerji kaynakları

7. Aşağıdakilerden hangisi üzerinde belirleyici olan faktör diğer dördünden farklıdır?

- A) Avrupa kıtasının batısındaki nüfus güneyinden daha yoğundur.
- B) Afrika kıtasının kuzeyinde kırsal kesimlerde yapı malzemesi olarak kerpiç, orta kesimlerinde ahşap kullanılır.
- C) Ekvatorial bölgede 1000 metrenin üzerindeki alanlar yerleşmeye daha elverişlidir.
- D) İskandinav ülkeleri ve Kanada'da nüfus daha çok güney kesimlerde yoğunlaşmıştır.
- E) Orta kuşakta yaşayan insanların yıl içinde giysi değiştirme gereksinimleri alçak enlemlerdekine göre daha fazladır.

A

8. Nüfusun yaşlanması, 21. yüzyılda ön plana çıkan en önemli demografik olgulardan biridir. Bütün dünyada insanlar daha uzun yaşamakta, doğum oranları azalmakta ve dolayısıyla yaşlı nüfus hem sayısal hem de oransal olarak artmaktadır. Nüfusun yaşlanması sağlıktan sosyal güvenliğe, çevre ile ilgili konulardan eğitime, iş olanaklarına, sosyokültürel faaliyetlere ve aile hayatına kadar toplumun bütün yönlerini etkilemektedir.

Buna göre, aşağıdaki ülkelerden hangisinde toplam nüfus içindeki yaşlı nüfusun payı daha fazladır?

- A) Hindistan                      B) Nijerya                      C) Şili  
D) Japonya                      E) İtalya

9. Suudi Arabistan, İran, Kuveyt, Irak ve Venezuela'nın üye olduğu örgüt aşağıdakilerden hangisidir?

- A) NATO                      B) OPEC                      C) İİT  
D) NAFTA                      E) OECD

10. Dünyada alternatif enerji kaynaklarının kullanımının artmasıyla;

- I. çevre kirliliği
- II. küresel ısınma
- III. enerji tüketimi
- IV. sanayi tesislerinin sayısı
- V. fosil yakıtların ticareti

durumlarından hangilerinde azalma olması beklenir?

- A) Yalnız I                      B) I ve II                      C) II ve III  
D) IV ve V                      E) I, II ve V

A

A

11. Biyokütle (biyomass), ısınma amaçlı ve enerji üretiminde yararlanılan, aynı zamanda çöplerin de yok olması işlevini gören önemli bir kaynaktır.

**Buna göre, Türkiye’de aşağıdakilerden hangisinin biyokütle olarak kullanılması tarımsal üretim için önemli bir kayıptır?**

- A) Ayçiçeği kabuklarının
- B) Hayvansal atıkların
- C) Evsel atıkların
- D) Kozalakların
- E) Fındık kabuklarının

12. Türkiye’de Cumhuriyetin ilk yıllarında,

- fazla çocuk sahibi ailelerin yol vergisinden muaf tutulması
- çok çocuklu ailelere gümrük muafiyeti getirilmesi
- doğum evlerinin kurulması
- ücretsiz ilaç dağıtılması

**uygulamaları ile aşağıdakilerden hangisi amaçlanmıştır?**

- A) Nüfus miktarının artırılması
- B) Şehirlere göçün azaltılması
- C) Yurt dışından makine alımının kolaylaştırılması
- D) Nüfusun ülke geneline dengeli dağılması
- E) Yurt dışına yapılan işçi göçlerinin azaltılması

A

13. Yeryüzünde sıcaklık ovalardan dağlara doğru çikildiğinde kutuplara yaklaşılmış gibi azalır.

**Aşağıdakilerden hangisi, bu genellemeye bir örnektir?**

- A) Denizlerde en soğuk ayın şubat olması
- B) Güneşlenme süresinin kutuplara gidildikçe artması
- C) En yüksek sıcaklıkların dönenceler çevresinde görülmesi
- D) Bir dağ yamacı boyunca bitkilerin yaprak türlerine göre kuşaklar oluşması
- E) Nemin az olduğu yerlerde sıcaklık farklarının fazla olması

14. Aşağıda üç yatırımcının X, Y ve Z merkezlerinde kurmayı planladıkları tesislerle ilgili bilgiler işaretlenmiştir.

Özellik	X	Y	Z
Kuracağım işletmede enerji kaynağı olarak linyit kullanacağım.	✓		
Son yıllarda tarihi ev ve konaklara ilgi fazla olduğundan otel açacağım.		✓	
Kuracağım enerji santrali rüzgârla elektrik üretecek.			✓

**Buna göre, yatırımcıların bu tesisleri kurmayı planladığı X, Y, Z merkezleri aşağıdakilerden hangisinde verilmiştir?**

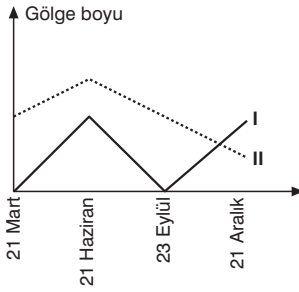
- |              | X | Y          | Z        |
|--------------|---|------------|----------|
| A) Elbistan  |   | Mardin     | Gökçeada |
| B) Trabzon   |   | Safranbolu | Konya    |
| C) Soma      |   | Ergani     | Bayburt  |
| D) Sarayköy  |   | Efes       | Alaçatı  |
| E) Zonguldak |   | Harran     | Manisa   |

A

15. Afrika kıtasının orta kesimlerinde bitki ve hayvan türü çeşitliliğinin, kıtanın kuzey ve güney kesimlerine oranla daha fazla olmasının temel nedeni aşağıdakilerden hangisidir?

- A) Nüfus yoğunluğunun az olması
- B) Şiddetli tektonik depremlerin yaşanması
- C) Dağlık arazilerin geniş yer kaplaması
- D) Sıcaklık ve nemliliğin fazla olması
- E) Kentsel yerleşmelerin yoğun olmaması

16.



Yukarıdaki grafikte, aynı boydaki iki cismin yıl içinde öğle vakti ölçülen gölge boyları gösterilmiştir.

**Bu cisimlerin bulunduğu merkezlerle ilgili aşağıdakilerden hangisi söylenemez?**

- A) I. merkez Ekvator üzerinde yer alır.
- B) I. merkezde güneş ışınlarının atmosferde tutulma oranı 21 mart ve 23 eylül tarihlerinde daha azdır.
- C) II. merkez Oğlak Dönencesi ile Güney Kutup Dairesi arasında yer alır.
- D) II. merkezde gündüz ve gece süreleri arasındaki fark daha azdır.
- E) 21 Haziranda iki merkeze de güneş ışınlarının düşme açısı küçülmektedir.

A

- 17.
- Alt yapı sistemlerinin kullanılamaz hale gelmesi
  - Konutların ve iş yerlerinin tahrip olması
  - Büyük kütle hareketlerinin ve toprak kayıplarının oluşması

**Aşağıdaki doğal afetlerin hangisi, yukarıdaki durumların ortaya çıkmasında etkili değildir?**

- A) Deprem
- B) Sel ve taşkınlar
- C) Kuraklık
- D) Heyelan
- E) Tropikal siklonlar

18.

- Antarktika'da buzul üzerinde yaşayabilen asil penguenlerin yerini, suda yaşayabilen Papua penguenlerinin alması
- Alaska'da hızla artan böceklerin ladin ağaçlarına zarar vermesi
- Kanada'nın kuzeyinde bir uçtan bir uca göç eden karibuların sayılarında ciddi düşüşlerin görülmesi
- Avrupa'da bazı kelebek türlerinin yayılış alanının geçmişe oranla 30 ile 240 km kuzeye kayması

**Dünya üzerinde meydana gelen bu değişimlerin temel nedeni aşağıdakilerden hangisidir?**

- A) Doğal afetler sonucunda dünya ekosisteminin bozulması
- B) Volkanik faaliyetlerle havadaki karbondioksit oranının artması
- C) Güneşteki patlamalarla atmosferin daha çok ısınması
- D) İnsan etkinliklerine bağlı iklim değişikliklerinin yaşanması
- E) Maden çıkarımının doğal çevreyi değiştirmesi

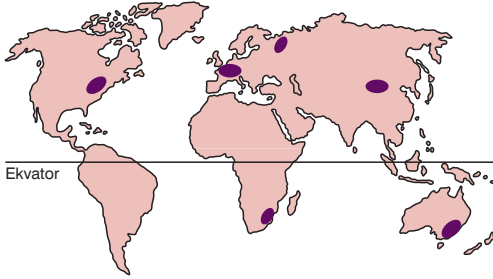
**A**

19. Kendine özgü bitki ve hayvan türlerini barındıran bölgelere biyom adı verilir.

**Aşağıdakilerden hangisi bir biyomun özellikleri hakkında bilgi vermez?**

- A) Bitki örtüsünün uzun boylu otlar ve yer yer ağaçlardan oluşması
- B) Bazı hayvanların yılın belli bir dönemini uykuda geçirmesi
- C) Suyun kimyasal yapısı
- D) Aynı ortamda farklı bitki topluluklarının bulunması
- E) Bitkilerin kök sisteminin gelişmiş olması

20.



Yukarıdaki haritada yeryüzündeki önemli kömür havzaları taranarak gösterilmiştir.

**Buna göre, kömür havzaları için aşağıdakilerden hangisi söylenebilir?**

- A) Eski arazilerde oluşmuşlardır.
- B) Asya kıtasındaki havzalarda toplam rezerv diğerlerinden fazladır.
- C) Levha sınırlarında yer alırlar.
- D) Volkanik faaliyetler sonucunda oluşurlar.
- E) Ormanlık alanlarda yaygın olarak bulunurlar.

**A**

21. Türkiye’de doğal ve kültürel turizm alanlarından sürdürülebilir bir biçimde yararlanılması ve elde edilen gelirlerin artırılması, aşağıdakilerden hangisiyle da ha çok ilişkilendirilebilir?

- A) İstihdamın artırılmasıyla
- B) Alt yapı ve üst yapının doğal çevreye zarar vermeyecek şekilde düzenlenmesiyle
- C) Reklam, tanıtım ve pazarlama olanaklarının artırılmasıyla
- D) İç turizme katılımın artırılmasıyla
- E) Tarihi ve kültürel eserlerin turizme kazandırılmasıyla

**A**

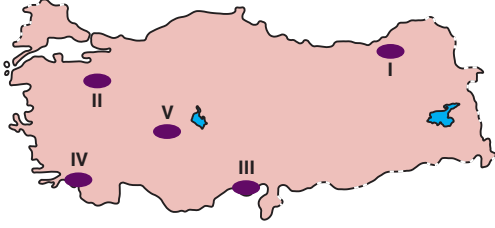
22. Fosil yakıtların aşırı kullanılması ve sanayileşme faaliyetleri atmosfere yayılan karbondioksit miktarının fazla olmasına, bu da dünyada sıcaklık artışlarına neden olmaktadır. Kamuoyunun bu sorunlara duyarlılığının artmasıyla ülkeler bu gibi çevresel sorunlara yönelik yasal düzenlemeler yapmıştır. Bu yasal düzenlemelerin yanında sivil toplum örgütleri de bu soruna sahip çıkıp bireysel olarak uygulayabileceğimiz bazı önerilerde bulunmaktadır.

**Aşağıdakilerden hangisi, bu öneriler arasında gösterilemez?**

- A) Suyu kirlüten kimyasal maddelerin kullanılmaması
- B) Ambalaj malzemesi olarak plastik poşetlerin kullanılması
- C) Ozon tabakasına zarar veren gazları içeren kozmetik ürünlerin kullanılmaması
- D) Ulaşımında toplu taşıma araçlarının kullanılması
- E) Temizlik ürünlerinde suda çözünenlerin tercih edilerek bu ürünlerin yeteri kadar kullanılması

A

23. Aşağıdaki haritada beş yöre gösterilmiş, bu yörelerden dördüne ait bilgiler verilmiştir.



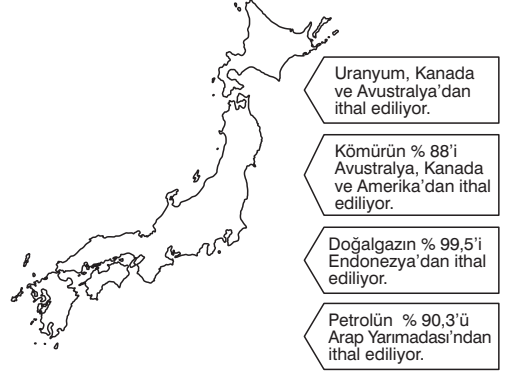
- Verimli alüvyal alanlar tarım için oldukça güzel imkanlar sunar. Ilıman iklim şartlarının etkisiyle yılda birden fazla ürün alınmaktadır. Genellikle buğdayı hasat ettikten sonra yerine mısır, soya fasulyesi gibi tarım ürünleri ekilir.
- İklim ve yer şekilleri çok büyük imkanlar sunmaktadır. Ahır hayvancılığında oldukça ileri düzeydedir. Ayrıca kümes hayvancılığı ve ipek böcekçiliği de diğer bölgelere göre daha fazla gelişmiştir.
- Yeryüzü şekillerinin dağlık ve engebeli olması tarım için büyük engel teşkil etmektedir. Zaten parçalı ve az olan tarım arazilerinde yeterince makine kullanılmayışı da büyük problemdir. İklim, yüzey şekillerinin uygun olduğu yerlerde birçok tarım ürününün yetiştirilmesine imkan sağlamaktadır. Büyükbaş hayvancılık da gelişmiştir.
- Küçükbaş hayvancılık ve tahıl tarımı başlıca ekonomik etkinliklerdendir. Türkiye'nin tahıl üretiminde önemli bir bölgedir. Her ne kadar gübre ve kaliteli tohum kullanıp, rahat bir şekilde makineli tarım yapılırsa da tahıl üretiminde yıldan yıla dalgalanmalar görülür.

Buna göre, haritada numaralandırılmış alanlardan hangisine ait bilgi verilmemiştir?

- A) I      B) II      C) III      D) IV      E) V

A

24. Aşağıda Japonya'nın ithal ettiği ham maddelerle ilgili bilgiler verilmiştir.



Buna göre, Japonya ile ilgili aşağıdaki yargılardan hangisine ulaşamaz?

- A) Elektrik enerjisinin bir bölümü nükleer enerjiden sağlanır.
- B) Dış ticaretinde zengin enerji kaynaklarına sahip ülkelerin payı yüksektir.
- C) Hidroelektrik enerji üretiminin tamamı yerli kaynaklardan sağlanır.
- D) Enerjideki dışa bağımlılık enerji tüketiminin az olmasına neden olmaktadır.
- E) İthal edilen enerji kaynaklarının önemli bir bölümü deniz yoluyla taşınmaktadır.

## SINAV BİTTİ, BAŞARILAR

LYS - Lisans Yerleşirme Deneme Dergisi

11.05.2016 Çarşamba

İmtiyaz Sahibi: Feza Gazetecilik A.Ş. Sorumlu Müdür ve Yayın Sahibinin Temsilcisi: Mehmet Özdemir Yayın Türü: Yerel Yayın

Adres: Fevzi Çakmak Mh. Ahmet Taner Kışlası Cd. No:634194 Bahçelievler - İstanbul, 444 8 555 Baskı: Çağlayan Basım Yayın A.Ş.

Dağıtım: Yay-Sat ISSN No: 1305-5070 Her Hakkı Feza Gazetecilik A.Ş.'ye Aittir. Kaynak Gösterilse Dahı İzin Alınmadan Kullanılamaz.